

ふりかえりシート付き 教科書算数プリント[徹底習熟編] 3年

下記のページに誤りがありました。お詫びして訂正させていただきます。 喜楽研

誤

正

P8 左 問題

はなごさんは、公園前からバスに……
……………(略)……………
……………はなごさんは、何時何分
発までのバスに乗れば間に合うでしょう。

はなごさんは、公園前からバスに…
……………(略)……………
……………はなごさんは、何時何分
までに家を出れば間に合うでしょう。

P12左① 問題

式 (全部の数)÷(人数)=(1人分の数)

(全部の数)÷(1人分の数)=(人数)

P67 左③ 問題

辺の長さが 2cm, 2cm, 4cm
の二等辺三角形

辺の長さが 5cm, 5cm, 4cm
の二等辺三角形

P8 左 解答

(A回り) $5+5+15+5+10=40$
9時30分-40分=8時50分
答え 8時40分発までのバス

(A回り) $5+15+5+10=35$
9時30分-35分=8時55分
答え 8時50分までに家を出る。

(B回り) $5+7+15+13+7=47$
9時30分-47分=8時43分
答え 8時35分発までのバス

(B回り) $7+15+13+7=42$
9時30分-42分=8時48分
8時35分のバスに乗る
答え 8時30分までに家を出る。

P26 右② 解答

(2つ目の式) $25 \div = 5$

$25 \div 5 = 5$

誤

正

P40 右 解答

③① $6 \text{ あまり } \underline{5}$



③① $6 \text{ あまり } \underline{2}$

③④ $4 \text{ あまり } \underline{1}$



③④ $4 \text{ あまり } \underline{5}$

③⑦ $9 \text{ あまり } \underline{3}$



③⑦ $9 \text{ あまり } \underline{1}$

④③ $1 \text{ あまり } \underline{\quad}$



④③ $1 \text{ あまり } \underline{3}$

P44左① 解答

⑦ $6 \times 7 + 2 = 44$



⑦ $5 \times 3 + 4 = 19$

⑧ $5 \times 3 + 4 = 19$



⑧ $6 \times 7 + 2 = 44$

⑨ $7 \times 5 + 1 = 36$



⑨ $9 \times 4 + 5 = 41$


⑩ $9 \times 4 + 5 = 41$



⑩ $7 \times 5 + 1 = 36$

P57右 チャレンジ 解答


(2問目) $466 \times 8 = 3728$



$416 \times 8 = 3328$ または
 $466 \times 8 = 3728$

P75右 解答


⑨ 942



924

P82左② 解答


② 5g



10g

P82右① 解答

① 350g



360g

P91右② 解答

⑪ $\frac{8}{10}$



$\frac{2}{10}$