



小数のわり算 (9)

名
前

- ① 3.9kgのジャムを0.5kgずつビンに入れます。
ジャムを入れたビンは何個できますか。また、何kgあまりますか。

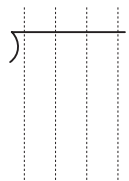

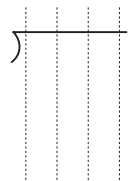
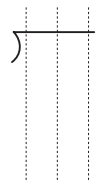


式

答え

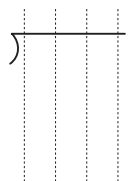
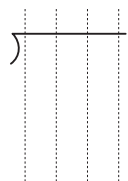
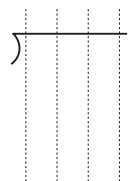
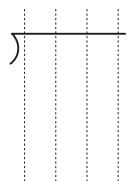
- ② 商は一の位まで求め、あまりも出しましょう。

- ① $3.3 \div 0.8$ ② $7.89 \div 0.9$ ③ $4.9 \div 2.4$ ④ $17.8 \div 8.3$



() () () ()


- ⑤ $6.27 \div 1.4$ ⑥ $34 \div 3.7$ ⑦ $3.2 \div 0.54$ ⑧ $6.51 \div 0.23$



() () () ()

復習

- ① 0.7×2.9 ② 0.6×8.7 ③ 0.8×2.76 ④ 0.5×1.38



小数のわり算 (10)

名
前

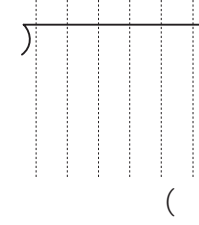
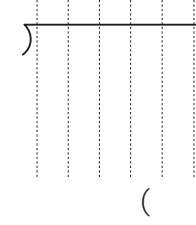

- ① 2.7mのパイプの重さをはかったら、4.1kgでした。このパイプ1mの重さは何kgですか。四捨五入して、上から2けたのがい数で求めましょう。

式

答え

- ② 商は四捨五入して、上から2けたのがい数で求めましょう。

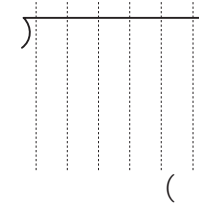
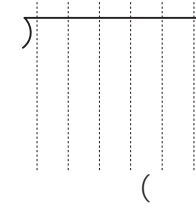

- ① $8.4 \div 2.6$ ② $4.3 \div 0.57$ ③ $8 \div 15.6$



() () ()

- ③ 商は四捨五入して、 $\frac{1}{10}$ の位までのがい数で求めましょう。

- ① $5.2 \div 0.7$ ② $0.86 \div 0.41$ ③ $12 \div 3.3$



() () ()

復習

- ① 0.53×0.27 ② 0.91×0.84 ③ 98×0.67 ④ 28×0.75

