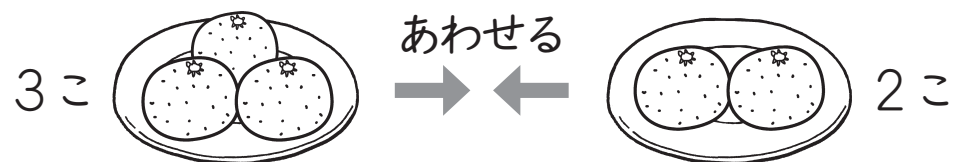


たしざん (1)

5までのたしざん

なまえ
なまえ

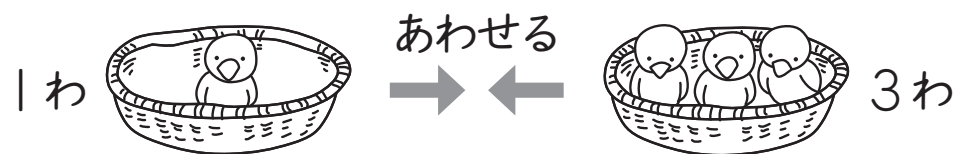
① みかんは あわせて なんこに なりますか。



しき $\begin{array}{c} \square \\ \square \\ \square \end{array} + \begin{array}{c} \square \\ \square \end{array} = \square$

こたえ \square こ

② とりは あわせて なんわに なりますか。



しき $\begin{array}{c} \square \\ \square \end{array} + \begin{array}{c} \square \\ \square \\ \square \end{array} = \square$

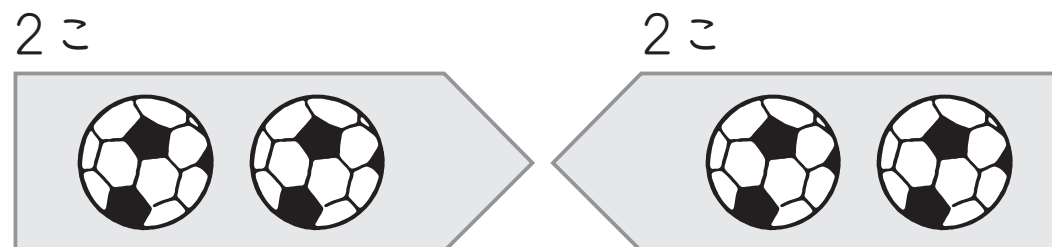
こたえ \square わ

たしざん (2)

5までのたしざん

なまえ
なまえ


① ボールは あわせて なんこに なりますか。



しき $\square + \square = \square$

こたえ \square こ

② ねこは あわせて なんびきに なりますか。



しき $\square + \square = \square$

こたえ \square びき